
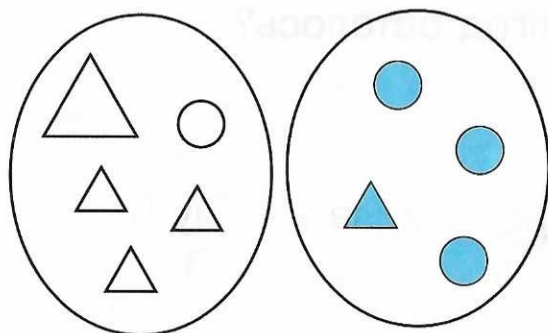


Итоговая контрольная работа за 1 класс

1 Продолжи:



2 Укажи признак разбиения и составь 4 выражения:



$$\begin{array}{ll} \square + \square & \square - \square \\ \square + \square & \square - \square \end{array}$$

3 Вычисли:

$$\begin{array}{lll} 25 + 23 = \square & 76 + 20 = \square & 10 - 3 - 7 = \square \\ 48 - 24 = \square & 95 - 60 = \square & 1 + 9 + 5 = \square \\ 62 + 5 = \square & 59 - 5 = \square & 7 + 5 - 4 = \square \end{array}$$

4 Вырази в указанных единицах измерения:

$$\begin{array}{ll} 30 \text{ см} = \square \text{ дм} & 13 \text{ см} = \square \text{ дм } \square \text{ см} \\ 4 \text{ дм} = \square \text{ см} & 5 \text{ дм } 6 \text{ см} = \square \text{ см} \end{array}$$

5 Сравни:

$$\begin{array}{lll} 80 \square 60 & 32 + 12 \square 32 + 42 & 2 \text{ л } \square 6 \text{ л} - 4 \text{ л} \\ 45 \square 51 & 15 - 6 \square 15 - 8 & 50 \text{ см } \square 9 \text{ дм} \end{array}$$



6 Реши уравнения:



$$70 - x = 20$$

$$8 + x = 10$$

$$x - 15 = 42$$

7 Реши задачу:

Мама купила сначала 5 кг клубники, а потом ещё 7 кг смородины. Из 9 кг ягод она сварила варенье. Сколько килограммов ягод осталось?



8 Начерти квадрат со стороной 3 см.



9[☆] Составь все возможные двузначные числа из цифр 5 и 8 (цифры в записи числа могут повторяться):
